

CHAPITRE 1 - LES ACTEURS DE L'ECONOMIE

11 – QUELLES SONT LES RELATIONS ENTRE LES ACTEURS ECONOMIQUES ?

A – Quels sont les différents acteurs qui créent la richesse ?

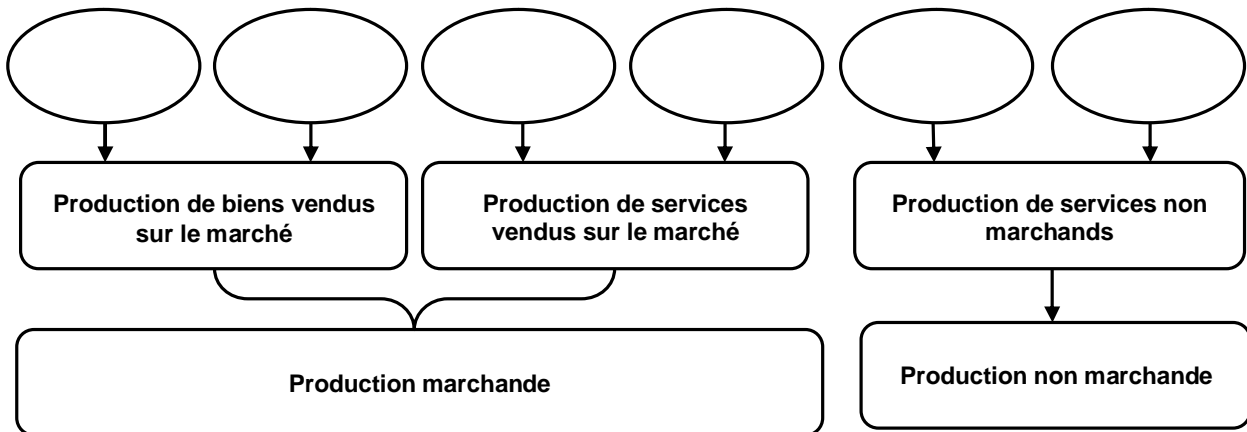
Dans la famille Durand, le père travaille dans son entreprise artisanale de menuiserie qui fabrique sur mesure des escaliers, des vérandas, et intervient dans la pose de fermetures, de charpentes, de parquets... Son bénéfice brut s'est monté à 72 000 € l'année précédente. Pour satisfaire ses clients, l'entreprise doit acheter une scie numérique pour améliorer son efficacité à un fournisseur allemand et se procurer les biens et services intermédiaires nécessaires. La mère est documentaliste dans une médiathèque municipale, financée par l'impôt, qui prête livres, journaux, CD, DVD à ses abonnés pour un salaire brut de 1 850 € par mois. Les enfants sont scolarisés.

Madame Durand fait en général les courses deux fois par semaine chez les petits commerçants et dans les grandes surfaces. Le mercredi, elle emmène les enfants dans leurs différents clubs associatifs de sport. Le couple projette d'acheter une maison, financée par son épargne et par un emprunt auprès d'une banque.

Q1 - Identifiez les différents acteurs économiques qui interviennent ici et leurs activités économiques principales :

Les acteurs économiques	Les activités
1 -	
2 -	
3 -	
4 -	
5 -	
6 -	
7 -	

Q2 - Distinguez les acteurs selon le type de production qu'ils réalisent :



Q3 - Complétez le texte à trous à l'aide du vocabulaire suivant : *services, bénéfice, coût, non marchands, besoins, entreprises, collectifs profit, épargne, travailleurs, consomment, intermédiaires, productives, associations, utilisent, investir, administrations.*

Les organisations....., c'est-à-dire celles qui mobilisent des.....et du capital pour transformer des biens et services.....en produits finis, sont au nombre de trois :

- Les.....qui vendent les biens matériels et les.....non stockables sur le marché dans le but de faire le maximum de.....(entreprise artisanale, Total, Carrefour, la banque BNP-Paribas, la compagnie d'assurance AXA...).
- Les.....publiques (Etat central, Sécurité sociale, Collectivités locales) qui offrent des services.....non marchands gratuits ou semi-gratuits (le prix est inférieur à 50% du.....de production) dans le but de satisfaire les.....sociaux de la population.
- Les.....(caritatives, sportives, culturelles, politiques, syndicales...) qui produisent également des biens et services.....en faveur de la population.

Les ménages.....ces biens et services c'est-à-dire qu'ils les.....après les avoir acheté ou en avoir bénéficié gratuitement. Si leur revenu disponible n'a pas été totalement consommé, il dégage une.....au même titre que les entreprise qui conservent unnon distribué. Ils vont pouvoir l'utiliser pour acheter des biens d'équipement durables et des bâtiments, c'est-à-dire.....

Q4 - Cochez les bonnes cases :

	Production	Consommation intermédiaire	Consommation finale	Investissement
Le lycée Masséna achète des ordinateurs				
Renault achète des pneus à Michelin				
Mme Durand achète un ordinateur				
Air-France commande 30 Airbus				
Apple a créé une tablette numérique				
Le couple Durand achète une villa de 250m ²				
Mr. X achète du chocolat pour faire un gâteau				

Q5 - Remplissez le tableau à l'aide des mots suivants : *produit des services non marchands (2), dons et subventions, intérêts, reçoit et prête de l'argent, consomment, échange avec les résidents, revenus du travail, impôts, produisent des biens ou des services marchands, assure des risques potentiels, redistribuent des revenus, cotisations volontaires, revenus mixte¹, devises², revenus de la propriété, profits non distribué, cotisations sociales.*

Les acteurs économiques	Fonctions principales	Ressources
1 - Les ménages	•	• • •
2 - Les entreprises non financières	•	•
3 - Les sociétés financières	• •	• •
4 - Les administrations publiques	• •	• •
5 - Les associations	•	•
6 - Le reste du monde	•	•

revenus mixte¹ = bénéfice de l'entrepreneur individuel qui apporte son travail et son capital dans l'entreprise ;
devises² = monnaie convertible (euro, dollar, yen, livre sterling...).

Q3 - Complétez le texte à trous à l'aide du tableau précédent :

- Les ménages comprennent toutes les personnes qui vivent etsous un même toit, un célibataire y compris. Les ménages ont pour fonction principale : la.....
- Les entreprises non-financières comprennent toutes les entreprises privées et publiques, petites, moyennes ou grandes. Leur fonction principale est la.....de biens et services marchands en vue de faire un.....
- Les sociétés financières comprennent toutes les sociétés qui produisent des services.....et des services d'..... pour les autres agents économiques (Banque, institutions de crédit, sociétés d'assurance, mutuelles...).
- Les administrations publiques comprennent toutes les organismes publics qui produisent des biens et services non marchands et qui se livrent à des opérations de.....de revenus. Elles sont composées :
 - ✓ Des administrations centrales (ministères) ;
 - ✓ Des administrations locales (Région, Département, Mairie) ;
 - ✓ Des organismes de Sécurité sociale.
- Les associations, institutions sans but lucratif au service des ménages des biens et des services non marchands pour satisfaire certains besoins sociaux des ménages.
- Le reste du monde comprend tous les «.....», c'est-à-dire tous ceux qui n'ont pas leur résidence principale (au moins 1 an) sur le territoire national quelque soit leur nationalité. Un américain habitant Paris depuis 3 ans est un résident. Un français résidant à New-York depuis deux ans est un non résident.

B – Pourquoi les différents acteurs sont-ils interdépendants ?

a) - De la production des organisations productives aux revenus

En 2010, l'entreprise artisanale de menuiserie de Mr Durand a vendu ses produits de menuiserie à des entreprises de bâtiment pour un montant de 1 millions d'€, qui représente son chiffre d'affaire. Pour réaliser sa production, il a dû embaucher 5 salariés qu'il paye 2 000€ net en moyenne par mois. Il a dû également acheter des biens et des services intermédiaires pour un montant de 600 000€ (bois, acier, clous, peinture, service d'un comptable...). Enfin, il a dû acheter sa scie numérique qui va lui coûter 18 000€ chaque année pendant 10 ans.

N'ayant pas la somme d'argent pour acheter cette scie mécanique, il a emprunté 180 000€ à sa banque. Il a promis de rembourser cette somme dans 10 ans et doit payer chaque année 10 000€ d'intérêts. Enfin, il a versé 60 000€ de cotisations sociales à la Sécurité sociale et 120 000€ de taxes et d'impôts divers à l'Etat en contrepartie des services collectifs qu'il lui offre gratuitement (route, police...). Le reste représente son bénéfice net qui correspond à sa rémunération d'entrepreneur.

Q1 - Quels sont les facteurs de production que l'entreprise a dû acheter pour réaliser sa production ?

-
-
-

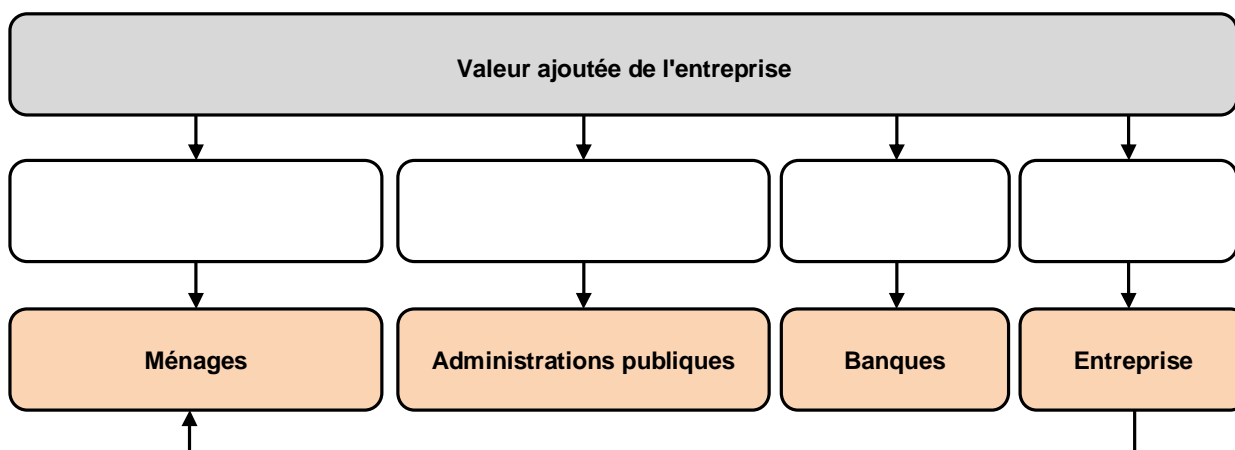
Q2 - Sur quels marchés l'entreprise a-t-elle pu se les procurer ?

-
-
-

Q3 - Complétez le compte de résultat de l'entreprise de Mr Durand :

Compte de résultat pour l'année 2010	Montant en €
Chiffre d'affaires =	
Consommations intermédiaires	
Valeur ajoutée =	
Salaires nets des travailleurs	
Cotisations sociales	
Prix de l'équipement (amortissement)	
Intérêts versés	
Impôts versés	
Bénéfice net =	

Q4 - A partir du tableau, complétez le schéma suivant :

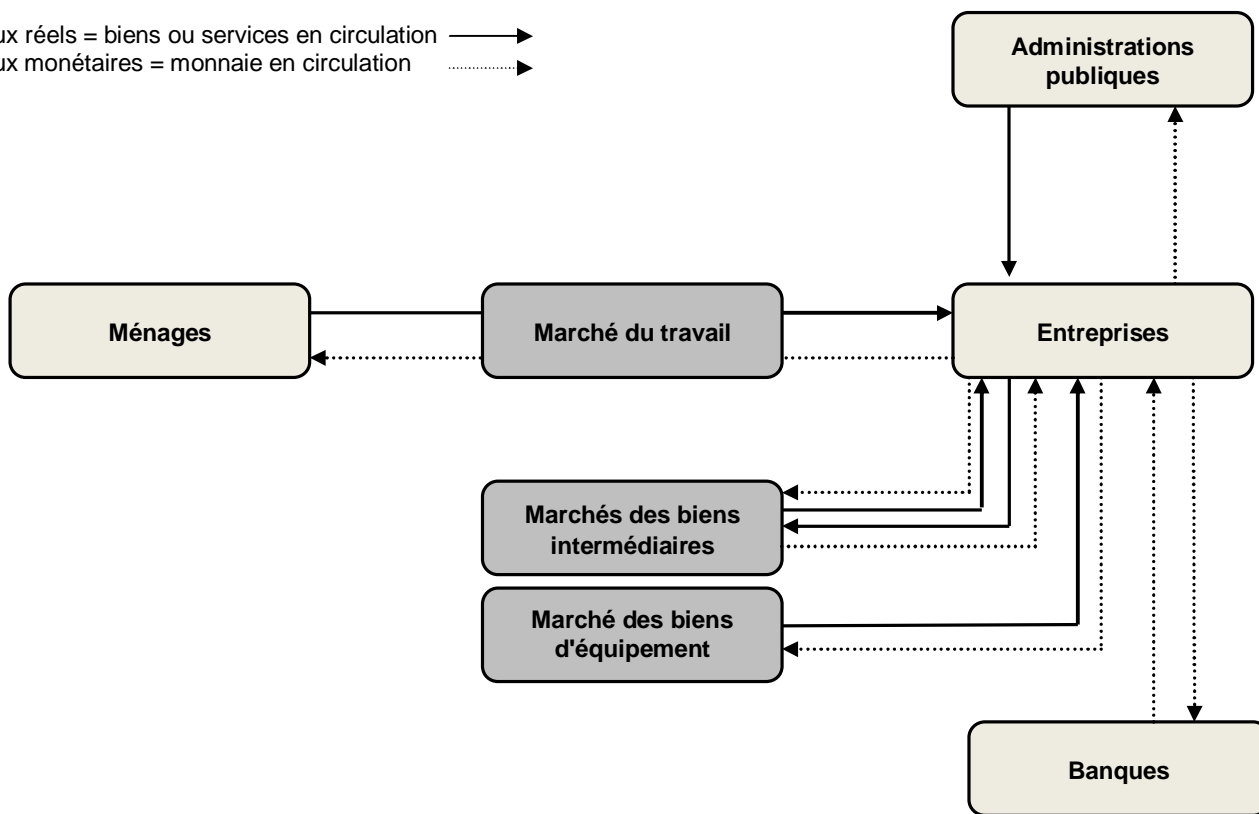


Q5 - Pourquoi la valeur ajoutée est-elle le pont de départ du schéma ?

-
-
-
-

Q6 - A partir du texte sur l'entreprise de Mr Durand, complétez le schéma en nommant chaque flèche et en chiffrant les flèches représentant un flux monétaire :

Flux réels = biens ou services en circulation ———→
 Flux monétaires = monnaie en circulation→



b) - Des revenus à la consommation et l'épargne

En 2010, les revenus primaires de la famille Durand se composent du bénéfice brut de 72 000 € de Mr. Durand, du salaire brut de Mme Durand de 1 850€ mensuel et de 5 800€ de revenus de la propriété provenant des intérêts leurs plans d'épargne et leurs dividendes de leur portefeuille d'actions. Sur ces revenus, ils ont versés 20 000€ de cotisations sociales à la Sécurité sociale et 15 000€ d'impôts sur le revenu. En revanche, ils ont reçu 1 500€ d'allocations familiales pour leur deux enfants et leur scolarisation gratuite coûte 20 000€ à l'Etat.

Madame Durand fait en général les courses deux fois par semaine chez les petits commerçants et dans les grandes surfaces. Le mercredi, elle emmène les enfants dans leurs différents clubs associatifs de sport. Ils partent en vacances deux fois dans l'année. Le total de ses dépenses pour l'année se monte à 55 000€. Le reste est épargné. La famille en garde un quart sur son compte courant, en verse la moitié sur son plan d'épargne logement et utilise l'autre quart en achat d'actions. Le couple projette d'acheter une maison, financée par son épargne (200 000€) et par un emprunt auprès d'une banque (250 000€).

Q1 - Calculez le total des revenus primaires de la famille Durand :

Q2 - Quels sont les deux prélèvements obligatoires que doit la famille Durand aux administrations publiques ?
 ➤
 ➤

Q3 - Calculez le revenu disponible qui leur reste en tenant compte des allocations familiales qu'ils reçoivent :

Q4 - Complétez l'équation suivante :

Revenu disponible = Revenu- Prélèvements obligatoires +

Q5 - Quelles sont les deux utilisations du revenu disponible ?
 ➤
 ➤

Q6 - Calculez la consommation effective du ménage Durand :

Q7 - Complétez l'équation suivante :

Consommation effective =+ Consommation socialisée

Q8 - Que fait le ménage Durand du revenu qu'il ne consomme pas ?
 ➤
 ➤

Q9 - A partir des textes sur l'entreprise et la famille Durand, complétez le schéma en nommant chaque flèche et en chiffrant les flèches représentant un flux monétaire :

