

TD N° 6 – ACTIFS, INACTIFS, CHÔMEURS, EMPLOI

Allez sur le site :

<http://www.educnet.education.fr/insee/emploi/default.htm>

Cliquez sur « emploi global » puis sur « mesure »

Lisez attentivement le texte et répondez aux six questions :

Q1 – Quelles sont les deux méthodes pour connaître le nombre d'actifs et d'inactifs ?

-
-
-

Note : /6

Cliquez sur « bulletin individuel du recensement de 2011 en bas de page

Q2 – Quelles sont les 3 populations que les questions 10, 11, 12, 16 et 17 du recensement permettent de distinguer ? Pour vous aider, posez-vous les questions suivantes : ont-elles un travail rémunéré (Oui/Non) ? Cherchent-elles un emploi (Oui/Non) ?

-
-
-

Revenez à la page « la mesure » et cliquez sur le mot "population active occupée" surligné

Q3 – Comment l'Insee définit-il la « population active occupée » ? Simplifiez la définition :

-
-
-

Q4 – Quelles sont les populations qui font partie de la « population active occupée » ? Utilisez la définition au sens du recensement :

-
-
-
-
-

Cliquez sur « bulletin individuel du recensement de 2011 » en bas de page

Q5 – A quelle condition fait-on partie des chômeurs selon la question 11 et 16 ?

-
-

Revenez à la page « la mesure »

Cliquez sur le mot "chômeurs" surligné

Q6 – Quels sont les trois critères pour définir officiellement les chômeurs ?

-
-
-

Cliquez sur « bulletin individuel du recensement de 2011 » en bas de page

Q7 – Quelles sont les 3 populations qui composent les inactifs selon la question 10 ?

-
-
-

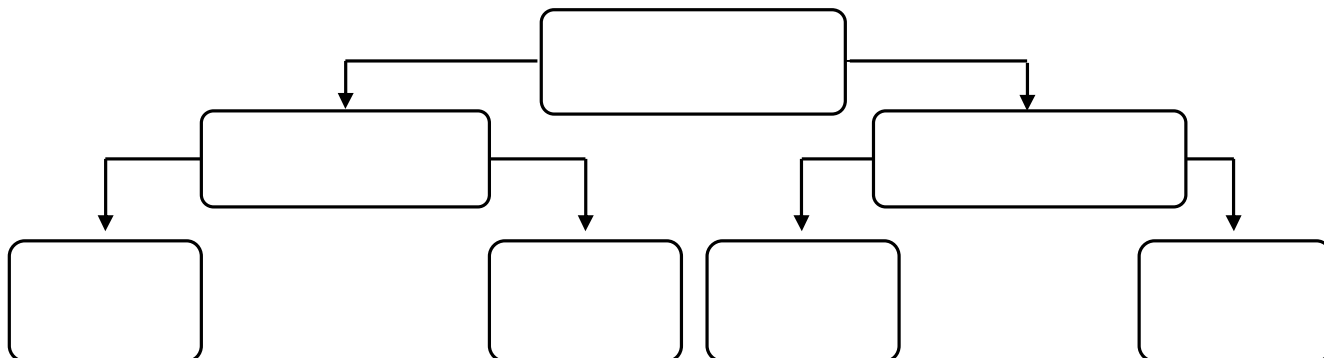
Revenez à la page « la mesure »

Cliquez sur « QCM » dans le menu de gauche et faites l'exercice

Note : /22

Cliquez ensuite sur « un schéma » dans le menu de gauche et faites l'exercice

Q8 – Remplissez le schéma suivant avec les termes : *chômage, inactifs volontaires, population totale, population inactive, inactifs légaux, emploi, population active*



Cliquez sur *derniers chiffres* dans le bandeau à gauche et répondez aux 4 questions

Note : /4

Actifs et emplois en France métropolitaine (en milliers et en %)

	1901	1931	1962	1974	2011 ¹
Population totale	38 451	41 228	46 422	52 321	63 136
Population en âge de travailler	28 415	31 767	34 184	39 581	40 992
Population active	19 562	20 397	19 902	22 235	
- Emploi	19 248	19 943	19 659	21 561	26 317
- Chômeurs	314	454	243	674	2 580
Taux d'activité	50,8	49,5	42,9	42,5	
Taux d'emploi	67,7	63,5	57,5	54,5	
Taux de chômage	1,6	2,2	1,2	3,0	

(Source : Insee 2011¹ = 2ème trimestre)

Q1 – En observant le tableau, écrivez l'équation reliant actifs, emploi et chômage et complétez pour l'année 2011

Population active = +

Q2 – A partir de la question sur le taux d'activité, écrivez l'équation et complétez le tableau pour l'année 2011

Taux global d'activité = / x 100

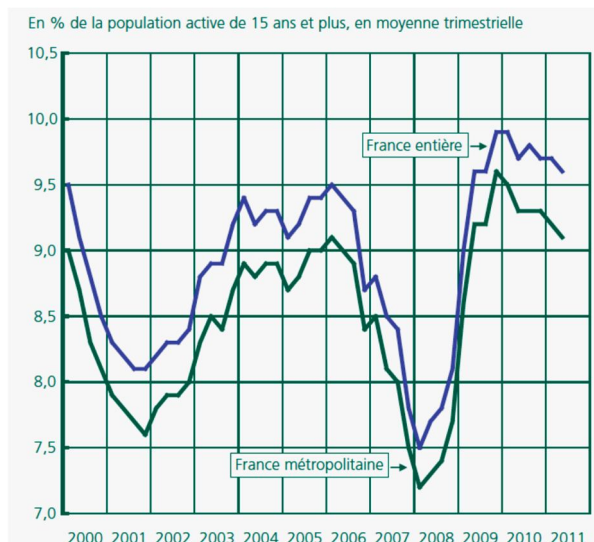
Q3 – A partir de la question sur le taux d'emploi, écrivez l'équation et complétez le tableau pour l'année 2011

Taux d'emploi = / x 100

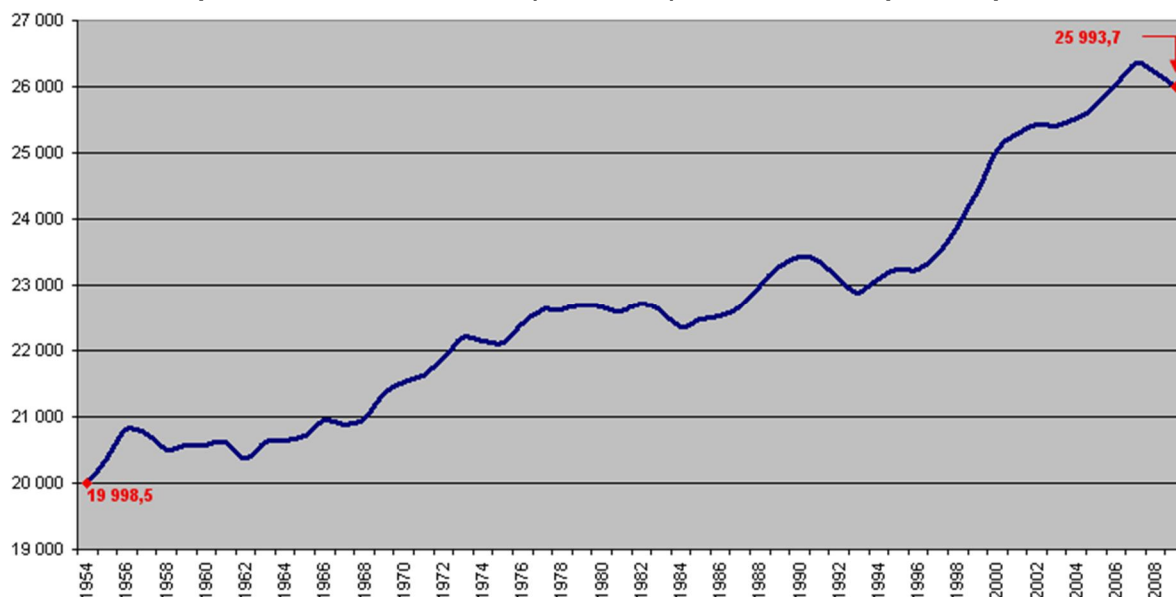
Q4 – A partir de la question sur le taux de chômage, écrivez l'équation et complétez le tableau pour l'année 2011

Taux de chômage = / x 100

Taux de chômage en France au sens du BIT (en %)



Emploi au 31 décembre 2010 (en milliers) au sens de l'enquête emploi



Q5 – A partir des trois documents, complétez le texte à trous :

La *population active* comprend toutes les personnes qui ont un.....rémunéré ou qui enun (les). En France, la population active a peu.....entre 1901 et 1962. Elle est restée stable autour de.....millions d'actifs. Puis, elle a fortement augmenté de..... millions d'actifs entre 1962 et 2010. Cette évolution s'explique :

- Par la forte croissance des.....entre 1962 et 2011 (+millions)
- Par la forte croissance du.....entre 1962 et 2011 (+millions)

En 1901,..... personnes sur....., en âge de travailler, avaient un emploi. En 2011, c'était le cas pour un peu plus de..... personnes sur.....

L'*emploi* appelé encore *la population active*.....comprend les....., les non salariés et les aides.....Il a augmenté de.....% entre 1954 et 1974. Il a quasiment.....(+ 2,3%) entre 1974 et 1994. Depuis, la France a créé de nombreux emplois : +.....% entre 1994 et 2011.

Enfin, on est un *chômeur* lorsque l'on est sans....., que l'on effectue un acte de..... et que l'on est disponible dans les.....jours. Le chômage est resté.....jusque dans les années 1970. En 1974,% de la population.....était au chômage. Depuis le milieu des années 1970, le chômage a explosé : il a été multiplié par.....entre 1962 et 2011. Entre 2006 et 2008, le taux de chômage a.....mais, depuis la crise de 2008-2009, il a à nouveau augmenté :.....% des actifs étaient au chômage en France métropolitaine en 2011 contre.....% en 2008.